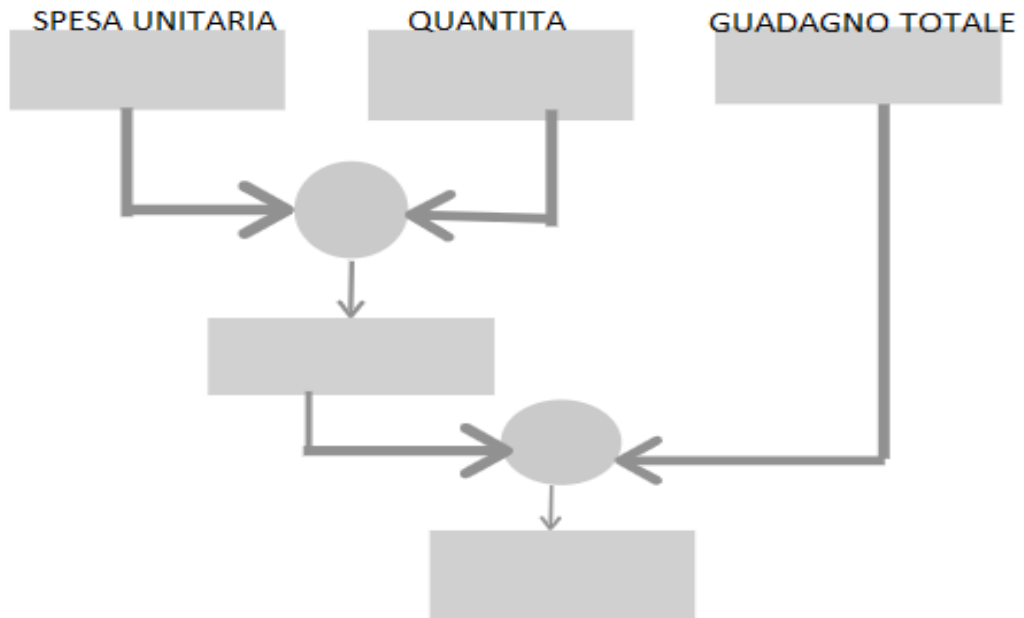


1. Un fruttivendolo acquista 35 (.....) cestini di fragole a €1,50 ciascuno (.....).

Domanda nascosta:

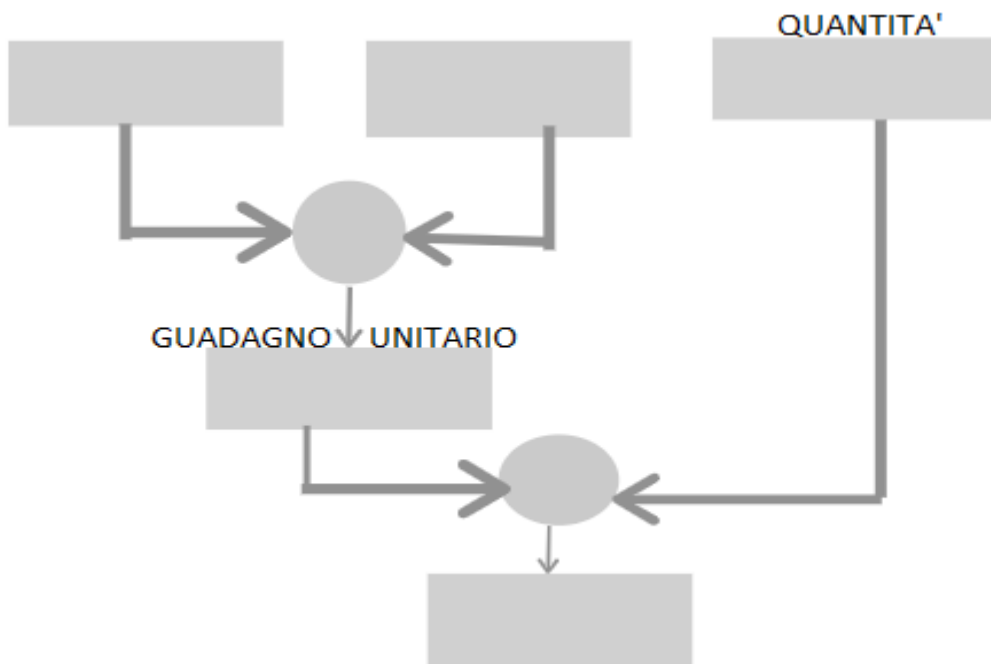
Se realizza un guadagno totale di €17,50 (.....), quanto ricaverà dalla vendita di tutti i cestini (.....)?



2. Il proprietario di una trattoria acquista 130 litri di vino (.....) a €2,50 il litro (.....). Lo rivende a €3,60 il litro (.....).

Domanda nascosta:

Quanto guadagna dalla vendita di tutto il vino (.....)?

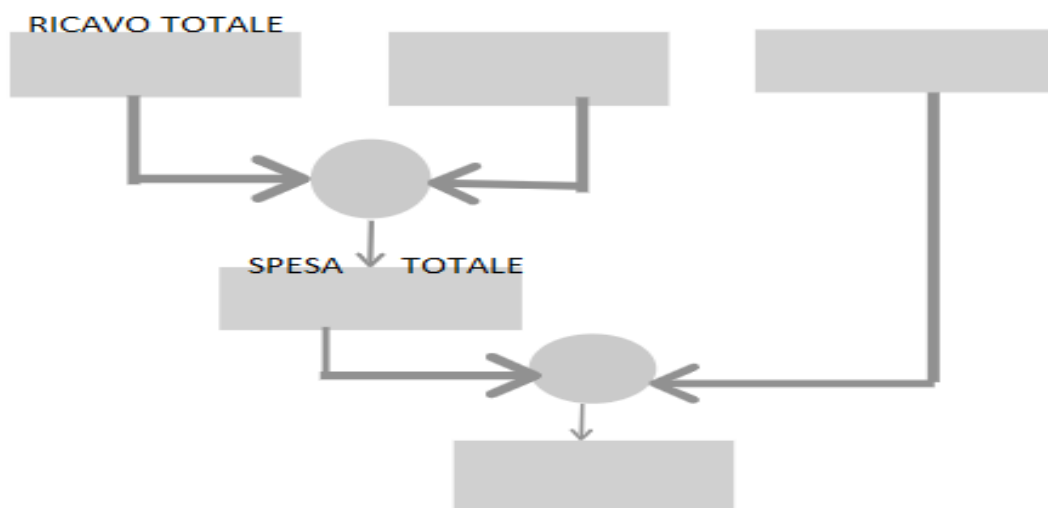


3. Un fioraio vende 6 piantine di rose (.....) ormai sfiorite a € 55,20 (.....).

Dalla vendita subisce una perdita complessiva di €12,60 (.....).

Domanda nascosta:

Quanti aveva pagato ogni piantina (.....)?



4. Un cartolaio acquista dal grossista 120 diari (.....) al costo di €4,50 l'uno (.....).

Domanda nascosta:

Se dalla vendita ricava €720 (.....), a quanto ammonta il suo guadagno (.....)?

