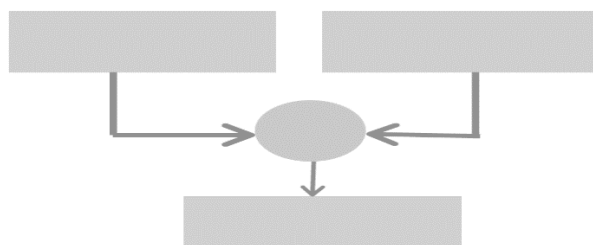
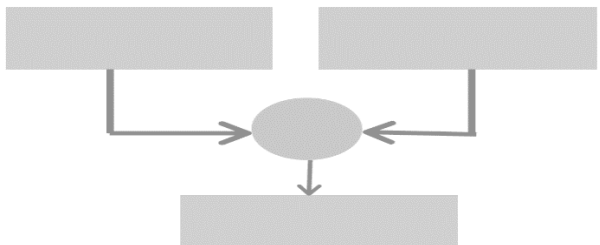


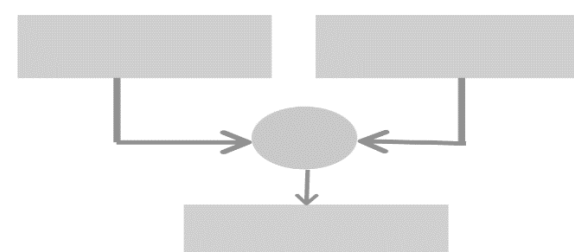
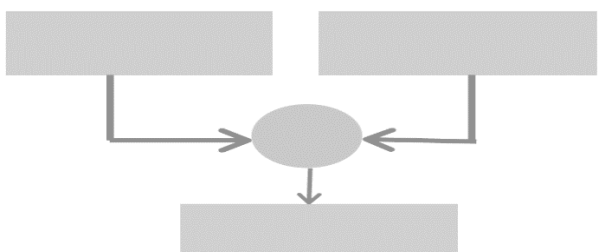
Inserisci nei puntini le parole della compravendita: spesa, guadagno, ricavo, perdita.

Nel primo diagramma scrivi la formula risolutiva; nel secondo inserisci i numeri e calcola.

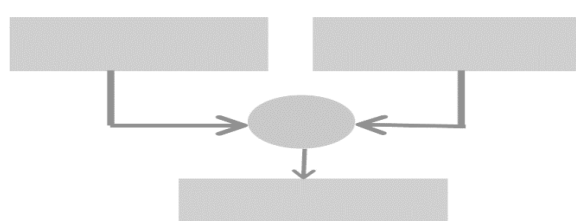
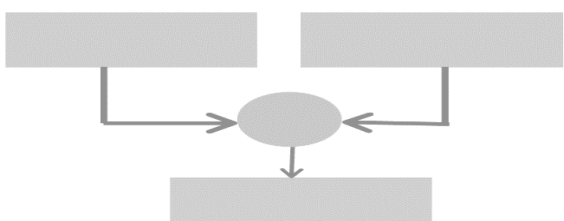
Un barista acquista una cassa di bibite. Per ogni bibita spende €1,10 [.....]. Al bar vende la bibita a €2,80 [.....]. Quanto guadagna vendendo una bibita [.....]?



Un negoziante acquista una bicicletta a €450,00 [.....]. Vuole venderla, guadagnando €680,00 [.....]. A quanto dovrà rivenderla [.....]?



In un negozio di auto usate, un'auto viene venduta a €5.900,00 [.....]. Vendendola guadagna €2.350,00 [.....], a quale prezzo l'aveva acquistata il negoziante [.....]?



In un negozio di scarpe non si riesce a vendere un paio di scarpe che era costato €73,00 [.....]. Si decide allora di metterlo in saldo e di venderlo a €55,00 [.....]. Quanti soldi perderà il negoziante con la vendita di queste scarpe [.....]?

