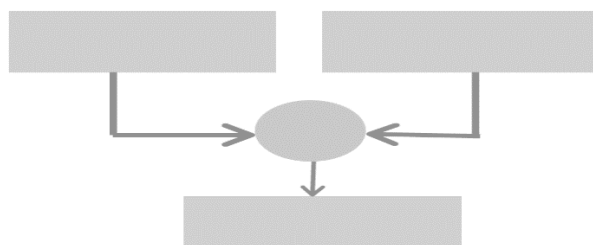
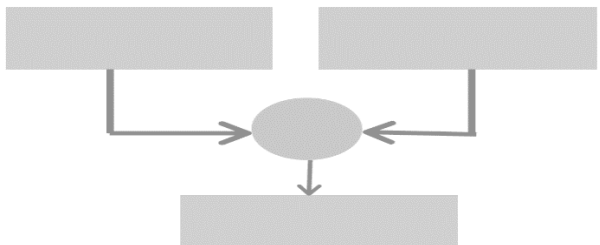


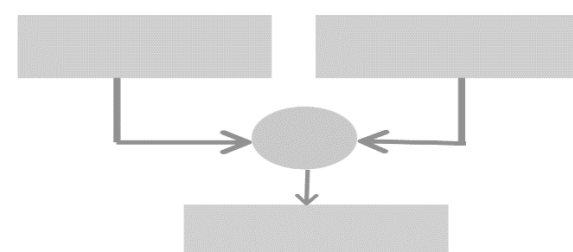
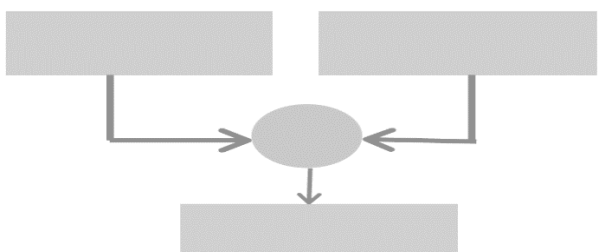
Inserisci nei puntini le parole della compravendita: spesa, guadagno, ricavo, perdita.

Nel primo diagramma scrivi la formula risolutiva; nel secondo inserisci i numeri e calcola.

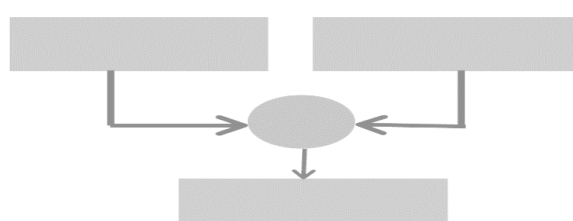
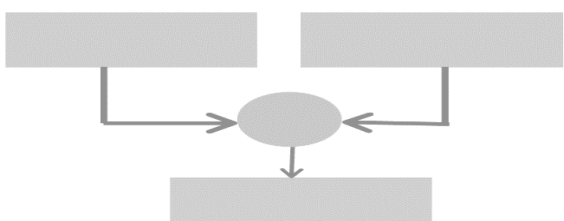
Un negoziante acquista una lavatrice a €250,00 [.....] e la rivende a €380,00 [.....]. Quanto guadagna [.....]?



Un negoziante acquista una moto a €1.200 [.....]. Vuole venderla, guadagnando €560 [.....]. A quanto dovrà rivenderla [.....]?



In un negozio d'arredamento un divano viene venduto a €950,00 [.....]. Se vendendolo guadagna €140,00 [.....], a quale prezzo l'aveva acquistato il negoziante [.....]?



In un negozio d'abbigliamento non si riesce a vendere un vestito che era costato €140,00 [.....]. Si decide allora di metterlo in saldo e di venderlo a €90,00 [.....]. Quanti soldi perderà il negoziante con la vendita di questo vestito [.....]?

