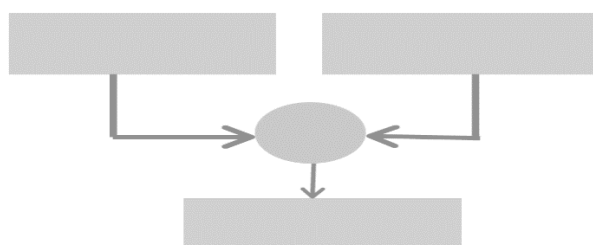
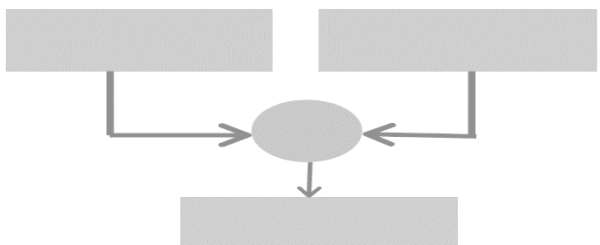


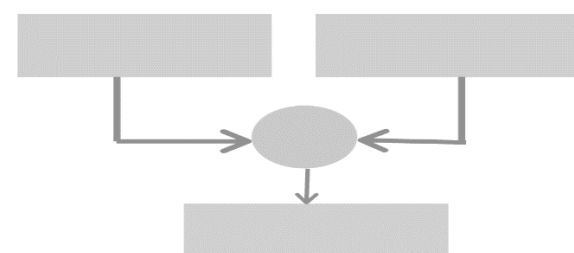
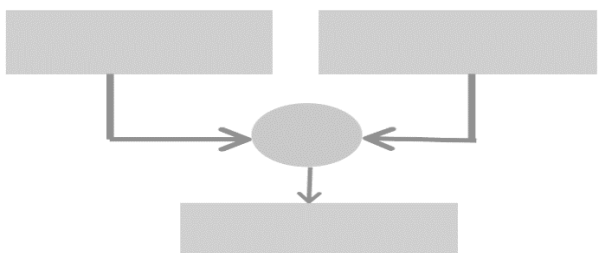
Inserisci nei puntini le parole PESO LORDO, PESO NETTO, TARA.

Nel primo diagramma scrivi la formula risolutiva; nel secondo inserisci i numeri e calcola.

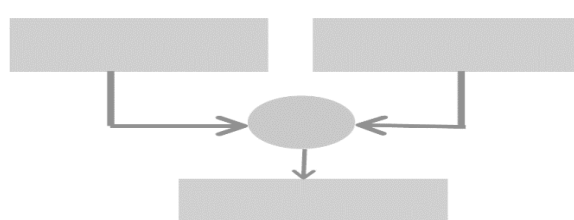
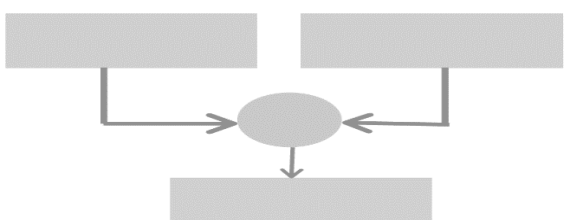
Un vasetto contiene 150g [.....] di marmellata alla fragola. Se il vasetto vuoto pesa 50g [.....], qual è il peso del vasetto pieno [.....]?



Il fruttivendolo vende una cassetta di mele che pesa 5 kg [.....]. Le mele costano €2,00 al kg per cui, per calcolare il prezzo, dovrà togliere dal peso totale, il peso della cassetta vuota che è di 0,5kg [.....]. Quanto peseranno le mele [.....] che dovrà vendere ?



Un camion carico pesa 9Mg [.....]. La merce trasportata pesa 6.650 kg [.....]. Qual è il peso del camion dopo che avrà scaricato la merce [.....]?



Il gelataio prepara delle coppette di gelato e in ognuna mette 200g di gelato [.....]. Pesando la coppetta, si accorge che ognuna ha un peso di 240g [.....]. Quanto pesa ogni contenitore [.....]?

