


SPAZIO – FORME - MISURA

1. La maestra chiede ai suoi alunni di disporsi su una linea, dal più basso al più alto.



Qual è l'allineamento giusto?


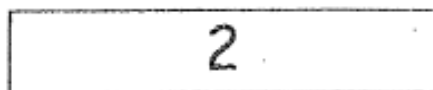
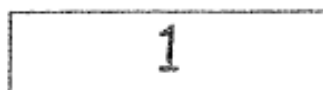
- A. L - G - C - M
- B. G - C - M - L
- C. L - M - C - G

2. Qual è l'ordine esatto dal più pesante al più leggero?



- A. Zaino, bicicletta, arancia, matita
- B. Bicicletta, zaino, arancia, matita
- C. Bicicletta, zaino, matita, arancia

3. Qual è il numero della striscia più lunga?



- A. 1
- B. 2
- C. 3

4. Quale tra i seguenti oggetti è più leggero?

A. Diario

B. Tovagliolo di carta

C. Quaderno

5. Osserva le faccine

	A	B	C	D	E
1				😊	
2					
3			😊		
4					😊
5	😊				

Quali coordinate indicano la loro posizione?






A. (A,5); (C,3); (D,1); (E,3)

B. (A,5); (C,3); (D,1); (E,4)

C. (A,4); (C,3); (D,1); (E,3)

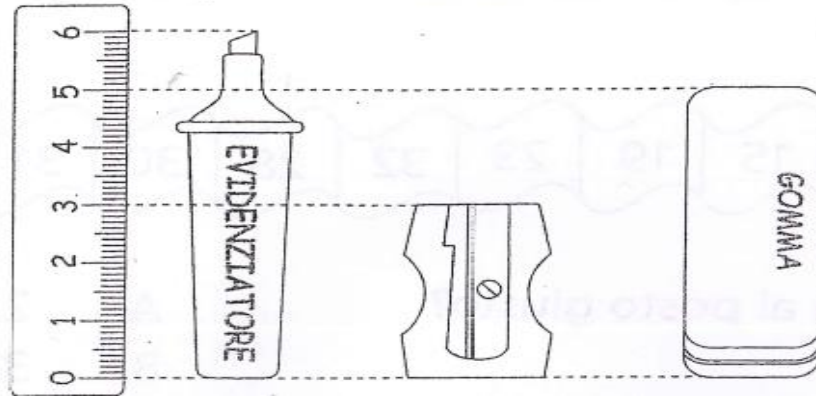
6. Osserva la tabella. Quale figura colorata dev'essere inserita al posto della

stellina  ?

	Rosso	Giallo	Blu
			
			
			
			


- A. giallo
 B. blu
 C. giallo

7. Per misurare Luca ha usato il righello. Scrivi le misure ottenute



- A. L'evidenziatore misura centimetri
- B. Il temperino misura centimetri
- C. La gomma misura centimetri

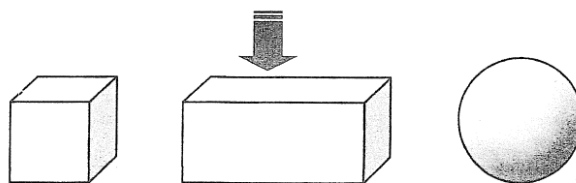
8. È la quinta forma della riga al centro



Qual è?


- A.
- B.
- C.

9. Qual è il numero della figura solida indicata dalla freccia?



- A. Sfera
- B. Parallelepipedo
- C. Cubo

10. Osserva il disegno. Indica l'affermazione SBAGLIATA



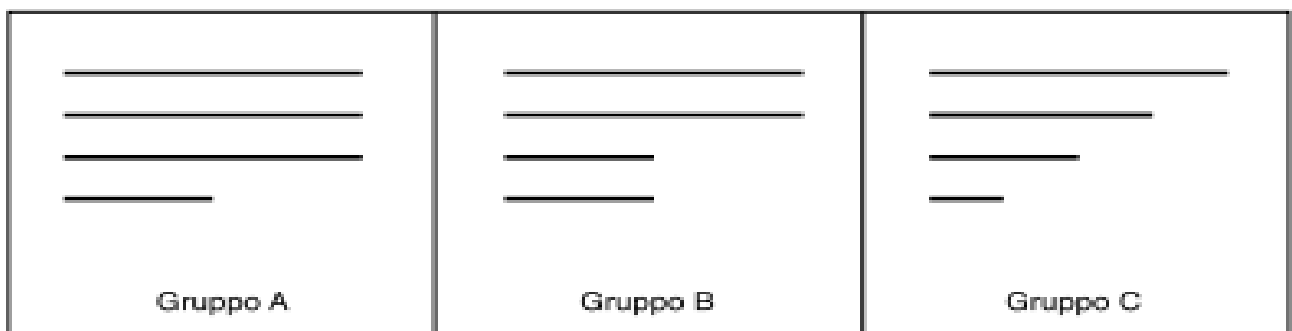
- A. Il bambino ha il termosifone alla sua sinistra.
- B. Il bambino ha la porta alla sua destra.
- C. Il bambino ha il portaombrelli alla sua sinistra.

11. In quale oggetto è stato tracciato correttamente l'asse di simmetria?



- A. Camicia
- B. Bottiglia
- C. Vaso

12. Osserva questi gruppi di bastoncini




Con quale gruppo puoi costruire un rettangolo?

GRUPPO

13. Un cartoncino grigio è stato tagliato in tanti pezzi; 4 sono triangoli.

Fai una crocetta su ogni triangolo



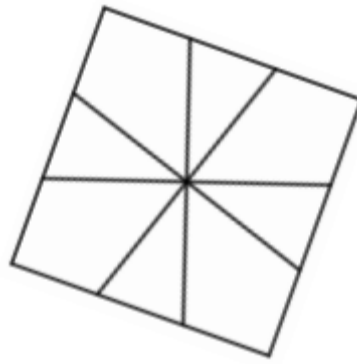
14. Un pittore disegna una barca che si riflette sull'acqua



Come apparirà il nome Maria riflesso?

- A. **M A R I A**
- B. **A I B A M**
- C. **M A R I A**

15. Osserva la figura. Quanti triangoli ci sono nella figura?



Risposta: i triangoli sono

16. Benedetta compra un giocattolo. Paga con questi soldi.



Riceve di resto una moneta da €2. . Quanto costava il giocattolo?

Il giocattolo costava:

17. Hai a disposizione queste banconote



Compri queste cose:



Quanto ti rimane?

Risposta:

