




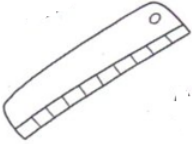


VERIFICA: LA MISURA

1. Scrivi se l'affermazione è vera o falsa

	Misura il tempo <input type="checkbox"/> VERO <input type="checkbox"/> FALSO		Misura il peso <input type="checkbox"/> VERO <input type="checkbox"/> FALSO
	Misura la capacità <input type="checkbox"/> VERO <input type="checkbox"/> FALSO		Misura la temperatura <input type="checkbox"/> VERO <input type="checkbox"/> FALSO
	Misura la lunghezza <input type="checkbox"/> VERO <input type="checkbox"/> FALSO		Misura il tempo <input type="checkbox"/> VERO <input type="checkbox"/> FALSO

2. Osserva e individua l'affermazione corretta



- La penna è più lunga del pennarello
- Il pennarello è più lungo della penna
- La penna e il pennarello hanno la stessa lunghezza

3. Immagina di mettere su un piatto di questa bilancia 2 palline nere uguali tra loro e sull'altro piatto 4 palline bianche uguali tra loro



La bilancia rimane in equilibrio, quindi 1 pallina nera pesa come palline bianche.

4. Osserva il termometro. Che temperatura segna?






- 25 gradi
- 30 gradi
- 50 gradi

5. Dal fruttivendolo ci sono questi due tipi di cestini di fragole.



Per comprare le fragole Matteo ha a disposizione €7 e li spende tutti. Cosa ha comprato?

- A. 
- B. 
- C. 

6. Disegna le lancette dell'orologio: usa il rosso per la lancetta delle ore, il blu per la lancetta dei minuti



11:30



6:15



9:45



22:15

7. Lorenzo ha ricevuto in dono una scatola di gessetti tutti della stessa lunghezza. Con 3 gessetti ha costruito questo trenino lungo 15 cm



Poi aggiunge altri 6 gessetti per allungare il trenino. Quanto misurerà ora l'intero trenino?

- 45 centimetri 30 centimetri 21 centimetri
-

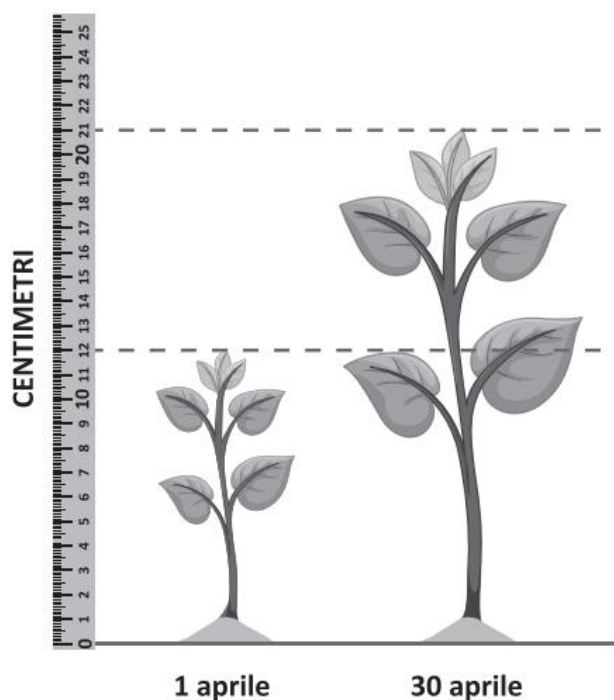
8. Osserva questa fotografia



Un piano di questa casa è alto circa 3 metri. Quale può essere l'altezza della casa?


- 7 metri 16 metri 30 metri
-

9. Andrea ha misurato l'altezza della sua pianta il 1 aprile e poi il 30 aprile. Di quanto è cresciuta la pianta?



- 21 centimetri
 12 centimetri
 9 centimetri

10. Adele sta guardando un video



Il video dura in tutto 6 minuti. Adele ha visto 3 minuti e 10 secondi. Quanto tempo manca alla fine del video?

- 3 minuti meno di tre minuti più di tre minuti
-

11. Osserva questa linea



La linea è lunga 12 trattini come questo: 

Quale tra queste figure ha il contorno lungo come la linea?

